


月と星の動きを見てみよう①

月の動き

○朝見える月は、どのように動いていたでしょうか。



()
 の空)




○夕方見える月は、どのように動くでしょうか。






()
 の空)

◎もうすこしくわしく、月の学習をしてみよう！！

【月の名前】



それぞれ、夕方にはどの方角の空に見えるかな？



☆月の動きのまとめ



月と星の動きを見てみよう②

星の動き

●方位を調べるには、何を使えばいいでしょうか。()

●思い出してみよう

8月9月の夏の大三角はどの方角に見えたかな？

の空

☆オリオン座で、星の動きを見てみよう

・星は、どのように動くでしょうか。

ア 右

イ 反時計回り

ウ 左

・ならば方はどうなりますか ()

☆星の動きのまとめ