

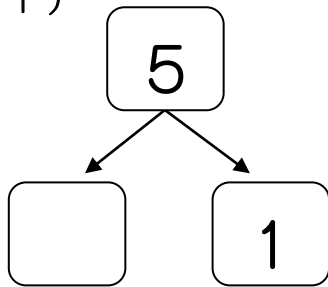
♪ センター なつトレ ♪

いくつといくつ (1)

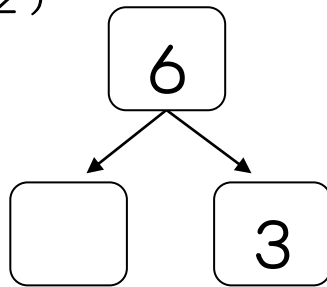
なまえ _____

もんだい しかくに すうじを いれましょう。

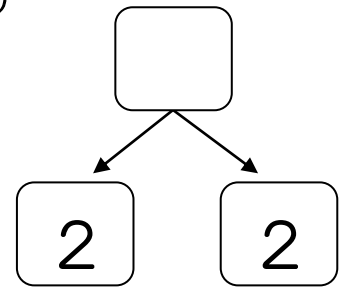
(1)



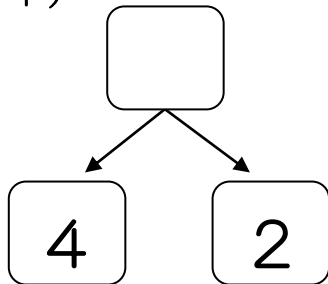
(2)



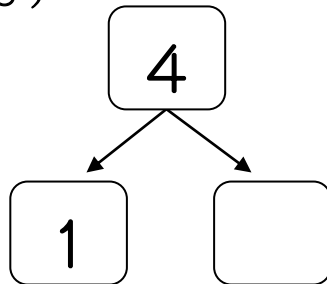
(3)



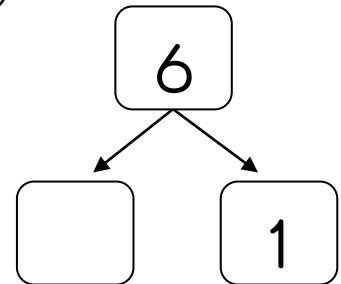
(4)



(5)



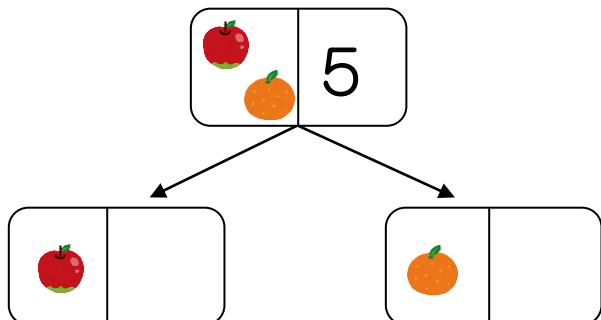
(6)



やってみよう!

りんごと みかんが ぜんぶで 5つ あるよ。

りんごは 3つ です。みかんは、いくつ ありますか？



こたえ

みかんは、 っ です。

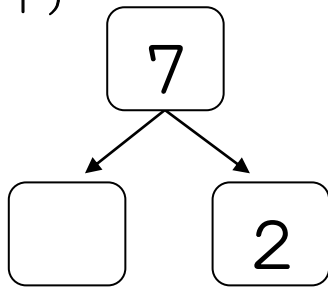
♪ センター なつトレ ♪

いくつといくつ (2)

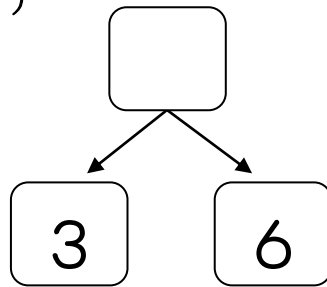
なまえ _____

もんだい しかくに すうじを いれましょう。

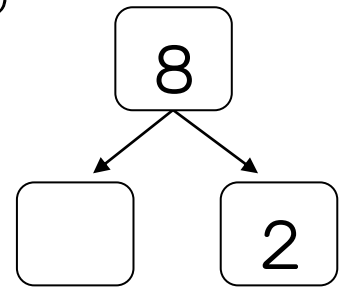
(1)



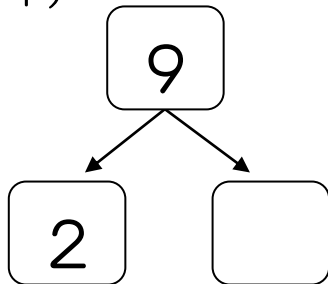
(2)



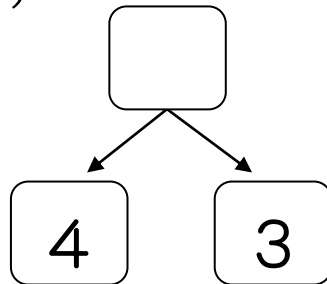
(3)



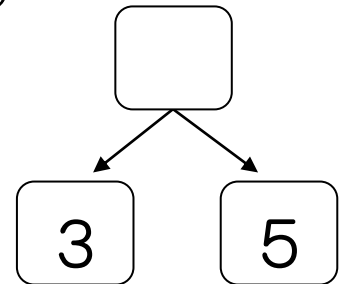
(4)



(5)



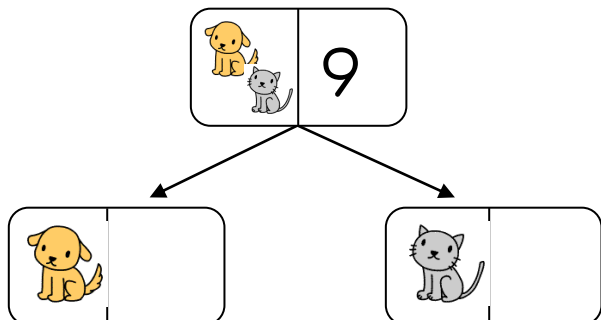
(6)



やってみよう!

いぬと ねこが ぜんぶで 9ひき いるよ。

ねこは 4ひき です。いぬは、なんひき いますか？



こたえ
いぬは、 ひき です。

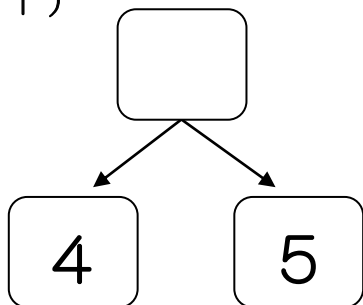
♪ センター なつトレ ♪

いくつといくつ (3)

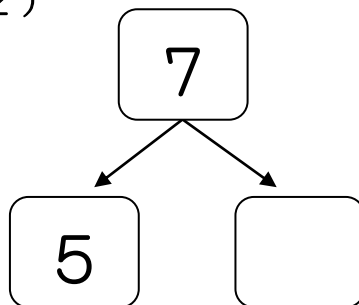
なまえ _____

もんだい しかくに すうじを いれましょう。

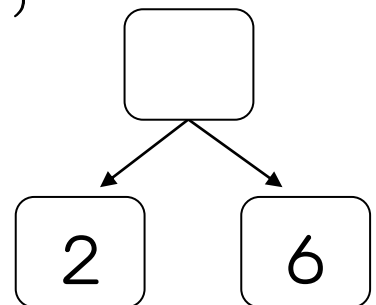
(1)



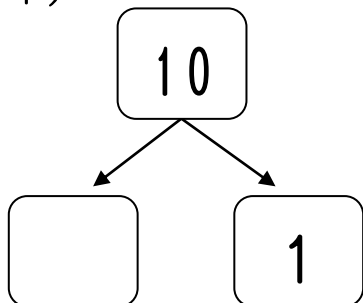
(2)



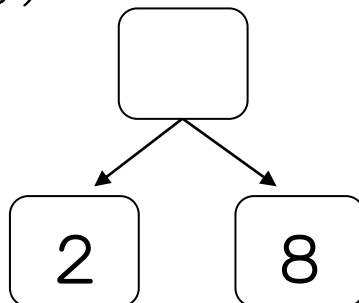
(3)



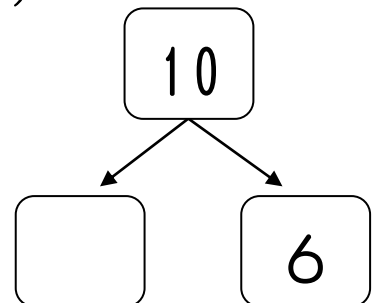
(4)



(5)



(6)



やってみよう!

しかくに すうじを いれましょう。

(1) 9 は 2 と

(2) 8 は 2 と

(3) 10 は 7 と

ほかの すうじでも やってみよう。



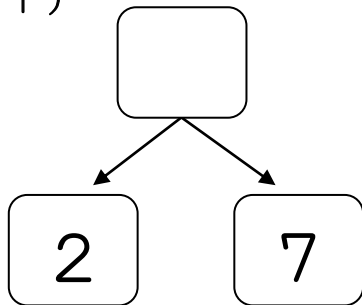
♪ センター なつトレ ♪

いくつといくつ (4)

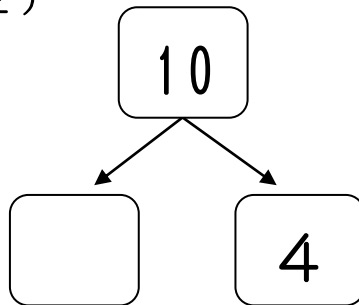
なまえ _____

もんだい しかくに すうじを いれましょう。

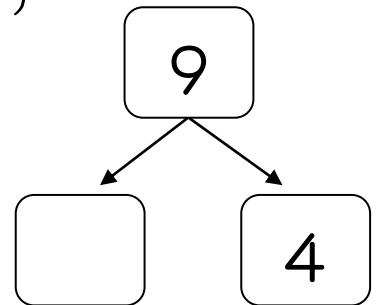
(1)



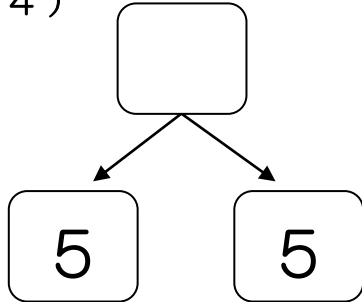
(2)



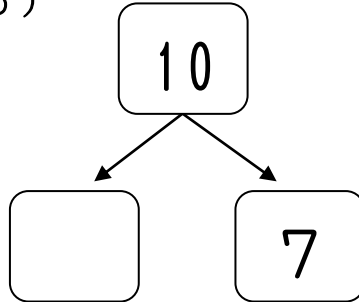
(3)



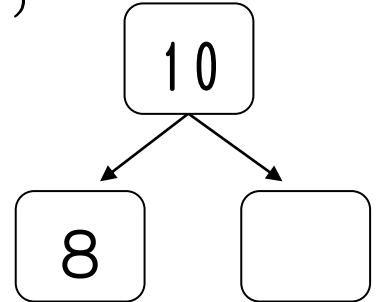
(4)



(5)



(6)



やってみよう!

もんだい 2つの かずで 10を つくり、
 ○ でかこみましょう。

1	2	7	2	6
9	3	5	8	3
5	2	8	6	7
6	4	5	2	4
2	7	5	1	5

たて よこ ななめを
 さがしてね。
 8つあるよ。

