

♪ センター なつトレ ♪

# たしざん (1)

なまえ \_\_\_\_\_

もんだい たしざんを しましょう。

①  $1 + 2 =$

②  $2 + 3 =$

③  $3 + 1 =$

④  $7 + 2 =$

⑤  $6 + 2 =$


⑥  $4 + 3 =$

⑦  $7 + 3 =$

⑧  $8 + 2 =$

やってみよう!

みんなで なんわに なりますか。  
しきに かいて こたえましょう。



しき

+  =

こたえ

わ

♪ センター なつトレ ♪

# たしざん (2)

なまえ \_\_\_\_\_

もんだい たしざんを しましょう。

①  $5 + 4 =$

②  $2 + 5 =$

③  $1 + 3 =$

④  $3 + 6 =$

⑤  $4 + 4 =$


⑥  $9 + 1 =$

⑦  $5 + 5 =$

⑧  $2 + 7 =$

やってみよう!

3わくると なんわに なりますか。  
しきに かいて こたえましょう。



しき

+  =

こたえ

わ

♪ センター なつトレ ♪

# たしざん (3)

なまえ \_\_\_\_\_

もんだい たしざんを しましょう。

①  $2 + 4 =$

②  $5 + 3 =$

③  $8 + 2 =$

④  $4 + 5 =$


⑤  $6 + 3 =$


⑥  $1 + 9 =$

⑦  $3 + 7 =$

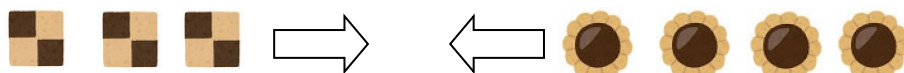
⑧  $4 + 6 =$

やってみよう!

 が、3まい あります。

 が、4まい あります。

くっきいは、ぜんぶで なんまい ありますか。



しき  +  =

こたえ  まい

しきにかいて  
こたえましょう。



♪ センター なつトレ ♪

# たしざん (4)

なまえ \_\_\_\_\_

もんだい たしざんを しましょう。

①  $2 + 6 =$

②  $5 + 4 =$

③  $7 + 3 =$

④  $3 + 6 =$

⑤  $4 + 3 =$

⑥  $8 + 2 =$

⑦  $9 + 1 =$

⑧  $3 + 5 =$

やってみよう!

くるまが、6だい あります。

4だい くと なんだいに なりますか。



しきにかいて  
こたえましょう。



しき  +  =

こたえ  だい