

♪ センター なつトレ ♪

たしざん (1)

なまえ

もんだい たしざんを しましょう。

① $1 + 2 = 3$ ② $2 + 3 = 5$


③ $3 + 1 = 4$ ④ $7 + 2 = 9$

⑤ $6 + 2 = 8$ ⑥ $4 + 3 = 7$

⑦ $7 + 3 = 10$ ⑧ $8 + 2 = 10$

やってみよう!

みんなで なんわに なりますか。
しきに かいて こたえましょう。



しき

$2 + 3 = 5$

こたえ

5 わ

♪ センター なつトレ ♪

たしざん (2)

なまえ

もんだい たしざんを しましょう。

① $5 + 4 = 9$ ② $2 + 5 = 7$


③ $1 + 3 = 4$ ④ $3 + 6 = 9$

⑤ $4 + 4 = 8$ ⑥ $9 + 1 = 10$

⑦ $5 + 5 = 10$ ⑧ $2 + 7 = 9$

やってみよう!

3わくると なんわに なりますか。
しきに かいて こたえましょう。



しき

$$\boxed{5} + \boxed{3} = \boxed{8}$$

こたえ

$$\boxed{8} \text{ わ}$$

♪ センター なつトレ ♪

たしざん (3)

なまえ

もんだい たしざんを しましょう。


① $2 + 4 = 6$ ② $5 + 3 = 8$


③ $8 + 2 = 10$ ④ $4 + 5 = 9$

⑤ $6 + 3 = 9$ ⑥ $1 + 9 = 10$

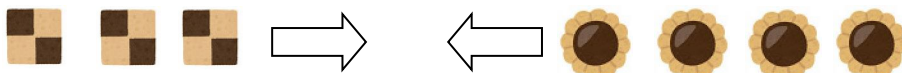
⑦ $3 + 7 = 10$ ⑧ $4 + 6 = 10$

やってみよう!

 が、3まい あります。

 が、4まい あります。

くっきいは、ぜんぶで なんまい ありますか。



しき

$$\boxed{3} + \boxed{4} = \boxed{7}$$

こたえ

$$\boxed{7} \text{ まい}$$

しきにかいて
こたえましょう。



♪ センター なつトレ ♪

たしざん (4)

なまえ

もんだい たしざんを しましょう。

① $2 + 6 = 8$ ② $5 + 4 = 9$

③ $7 + 3 = 10$ ④ $3 + 6 = 9$

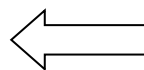
⑤ $4 + 3 = 7$ ⑥ $8 + 2 = 10$

⑦ $9 + 1 = 10$ ⑧ $3 + 5 = 8$

やってみよう!

くるまが、6だい あります。

4だい くと なんだいに なりますか。



しきにかいて
こたえましょう。



しき

$$\boxed{6} + \boxed{4} = \boxed{10}$$

こたえ

$$\boxed{10} \text{ だい}$$