

♪ センター なつトレ ♪

ひきざん (1)

なまえ

もんだい ひきざんを しましょう。

① $4 - 2 =$

② $5 - 3 =$

③ $3 - 1 =$

④ $4 - 1 =$




⑤ $5 - 4 =$

⑥ $6 - 1 =$

⑦ $9 - 3 =$

⑧ $8 - 3 =$

やってみよう! のこりは なんわに なりますか。
しきに 書いて 答えましょう。



しき

- =

こたえ

わ

♪ センター なつトレ ♪

ひきざん (2)

なまえ

もんだい ひきざんを しましょう。

① $9 - 5 =$

② $8 - 5 =$

③ $7 - 4 =$

④ $9 - 6 =$

⑤ $8 - 6 =$

⑥ $7 - 3 =$

⑦ $9 - 7 =$

⑧ $8 - 4 =$

いぬが 9ひきいます

やってみよう!



は4ひきです。いぬは なんびき いますか。
しきに かいて こたえましょう。



しき

-

=

こたえ

ひき

♪ センター なつトレ ♪

ひきざん (3)

なまえ

もんだい ひきざんを しましょう。

① $9 - 8 =$

② $6 - 4 =$

③ $8 - 6 =$

④ $9 - 7 =$

⑤ $10 - 4 =$

⑥ $10 - 2 =$

⑦ $10 - 5 =$

⑧ $10 - 3 =$

やってみよう!



は、より なんこ おおいでしょうか。

しきに かいて こたえましょう。



しき

-

=

こたえ

ひき

♪ センター なつトレ ♪

ひきざん (4)

なまえ

もんだい ひきざんを しましょう。

① $10 - 7 =$

② $10 - 4 =$

③ $10 - 1 =$

④ $9 - 5 =$



⑤ $8 - 6 =$

⑥ $10 - 6 =$

⑦ $10 - 9 =$


⑧ $10 - 8 =$

やってみよう!

 と  の かずの ちがいは

なんこですか。

しきに 書いて こたえましょう。



しき

- =

こたえ

こ