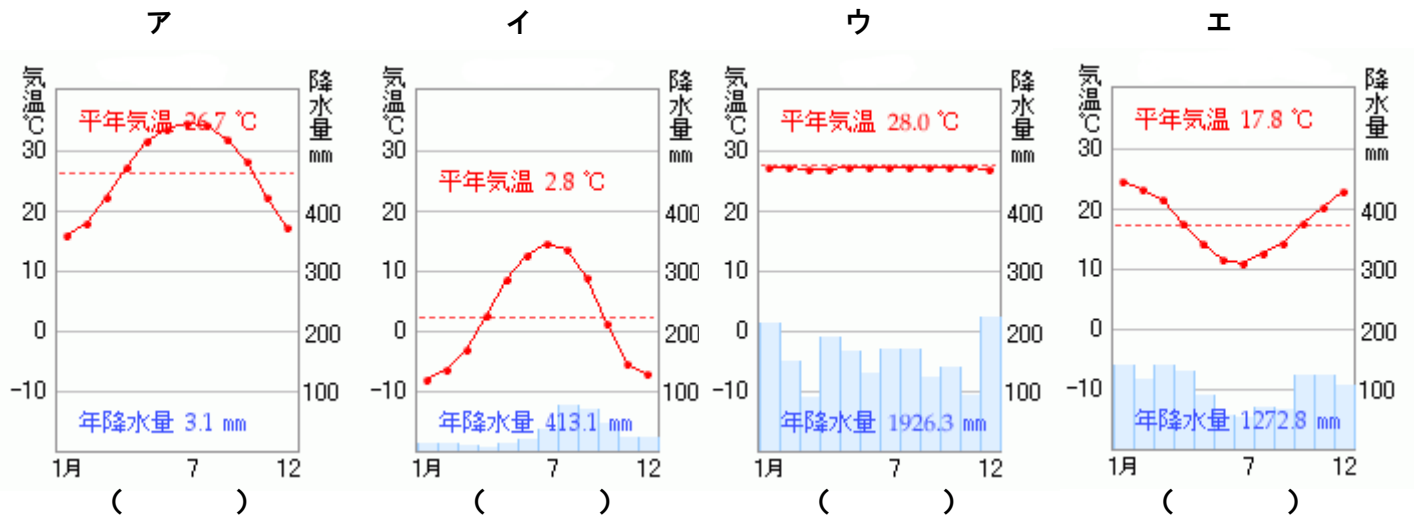


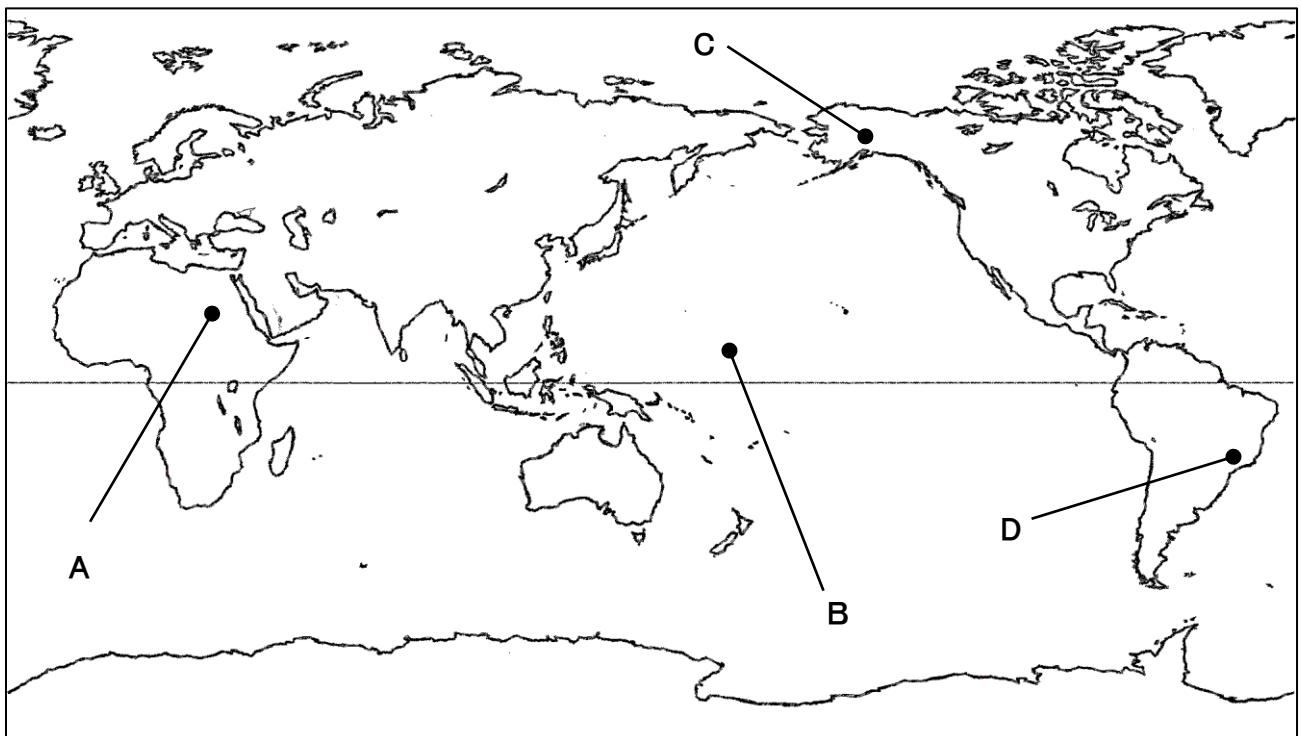
# 雨温図の読み取り方

年 組 番 名 前

次のア～エの雨温図は、地図中 A～D のどの地点のものかそれぞれ選びましょう。また、その雨温図の特徴を文章でまとめましょう。



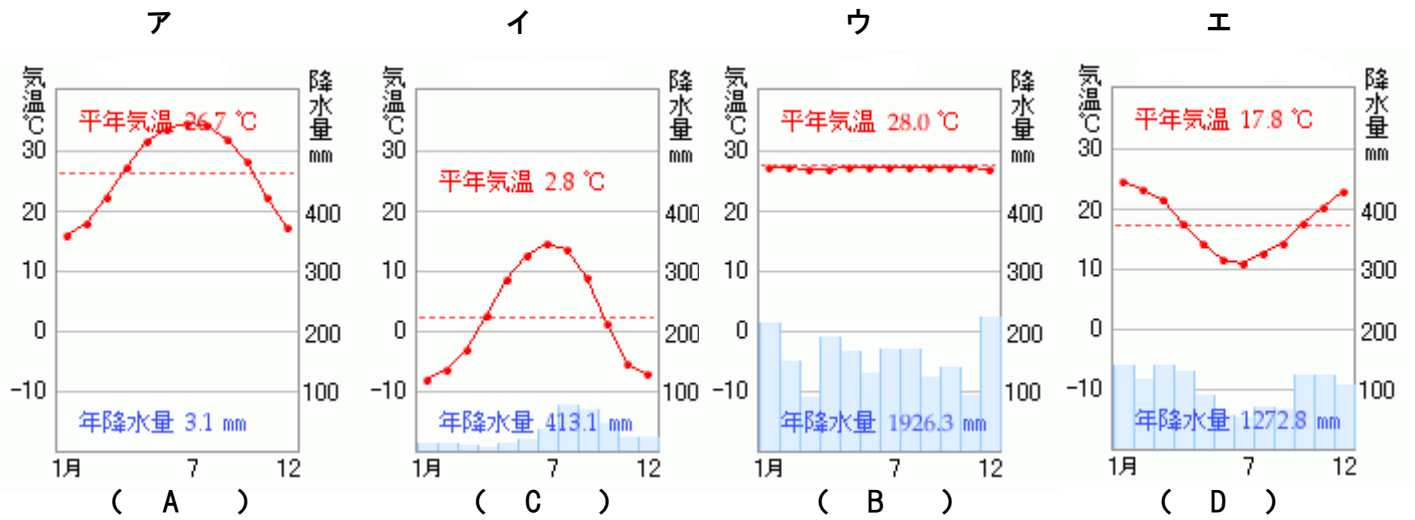
アの特徴	イの特徴	ウの特徴	エの特徴



# 雨温図の読み取り方

年 組 番 名 前

次のア～エの雨温図は、地図中 A～D のどの地点のものかそれぞれ選びましょう。また、その雨温図の特徴を文章でまとめましょう。



<p><b>アの特徴</b> 雨が降らない。気温が高い。(乾燥帯)</p>	<p><b>イの特徴 B</b> 気温が低い。雨が少しだけ降る。(冷帯)</p>	<p><b>ウの特徴</b> 一年中気温が高く、雨も多い。(熱帯)</p>	<p><b>エの特徴</b> 7～8月に気温が低い。日本とは季節が反対。(温帯)</p>
---	--	---	--

